

7. Sınıf

PARAGRAF

DENEMESİ



Mesut
BAYAR

 bizturkceogretmeniyiz

Duygu
AKKAYA SALMAN

 duyguluturkce



10 GÜN

PARAGRAF

Bu fasiküldeki
15 soruyu



30 dakikada
çözünüz.

1.



Bu görselden hareketle kara lahana ile ilgili aşağıdakilerden hangisi söylenemez?

- A) Diş sağlığı açısından faydalıdır. B) Bazı hastalıkların tedavisinde ilaç olarak kullanılır.
- C) Kansızlığa karşı yararlıdır. D) Bedenimizin dayanıklılığını artırır.

2.

Biz insanların diğer canlılardan bir farkı konuşmaksa öteki farkı da gülmektir. Siz hiç ömründe gülen, insandan başka kahkahalar atan bir canlı gördünüz mü? Zavallılar kim bilir ne kadar gülmek istiyordur. Hatta insan kardeşlerinin bazı öyle tuhafıkları vardır ki onların karşısında herhâlde kahkahalarla gülmek için can atıyorlardır. Ama ne hikmetse yüzleri gülmeye elverişli bir şekilde yaratılmamıştır. Kendilerini zorlasalar dahi gülemezler. Buna karşın insanlar istedikleri kadar gülebiliyorlar. Hayatı iyi karşılamamanın sırrını bulabilmek için insanlar her şeyden önce gülümsemeyi öğrenmeli. Unutmayalım ki başka canlılar için imkânsız olan gülümseme bizim için hiç de zor değildir.



Bu metnin konusuyla ilgili aşağıdakilerden hangisi söylenebilir?

- A) Gülümsemenin insanın hayatının ayrılmaz bir parçası olduğuna değinilmiştir.
- B) İnsanın en önemli özelliğinin gülümseme olduğu vurgulanmıştır.
- C) İnsanın gülümsemeye konuşmaktan daha fazla ihtiyacının olduğu üzerinde durulmuştur.
- D) İnsana ait bir özellik olan gülümsemeyi herkesin öğrenmesi gerektiği anlatılmıştır.

3. Aşağıdaki metinlerin hangisinde sadece bir duyuya ait ayrıntılara yer verilmiştir?

- A) Güzel bir yoldan geçtik. Yol ne asfaltlanmıştı ne de parke taşı döşeliydi. Ama iki yanı ağaçlar ve çayırarla kaplıydı, harika bir yerdi. Güneş ve masmavi gökyüzü de cabasıydı. Çayırlardaki çiçeklerin kokusu arabanın içine doluyor, ılık esen rüzgâr bize tatlı bir serinlik veriyordu.
- B) Ev sessizlik içindeydi. Gürültü yapılmıyor, herkes alçak sesle konuşuyordu. Annem, aşağı yukarı bütün gece yanımda kalıyordu. Ve ben kasabaya dönen dedemi düşünüyordum. Arada bir bana verdiği çakıyı elime alıyor, sonra yatağımın yanındaki çekmeceye bırakıyordum. Dışarıdaki cırcır böcekleri bile dedemin sakalının çıkardığı hırt hırt sesini taklit ediyorlardı sanki.
- C) Mahallemize yeni taşınan ailenin kızı, kırmızı lastiklerle tutturulmuş beyaz çorap ve beyaz bir ayakkabı giymişti. Çıplak ayaklarımdan utandım. Ayakkabıları öyle parlaktı ki her şey üzerinde yansıyor. Orada babamın bana bakan gözlerini bile görüyordum. İçimi çektim, ayaklarımdan üşüdüğümü hissettim. Bizi almaya gelen kamyonun kornasıyla irkildim. Arkama bakmadan yürüdüm.
- D) Musluk tamiri için gittiğim evde her şeyin ne kadar temiz ve düzenli olduğunu görmemi isterdim. Masanın üzerinde kırmızı kareli bir örtü bile vardı. Kahve fincanları da bizim evdekiler gibi teneke maşrapalar değildi. Yaşlı bir kadın hiç durmadan evde temizlik yapıyor, yerleri sabunlu suyla siliyordu. Yerdeki parkeler o kadar parlaktı ki insan kendini aynaya bakıyor zannediyordu.

4.



Eski zamanlarda üç atlı bir çölde geçiyordu. Kurumuş bir nehir yatağından geçerken bir ses işittiler. “Durunuz!” Hemen atlarını durdurdular. Ses, daha sonra atlarından inmelerini söyledi. “Yerden bir avuç taş alarak ceplerinize koyunuz ve yolunuza devam ediniz.” Ses daha sonra dedi ki “Emrettiğim gibi yaptınız. Yarın güneş doğduğu zaman hem memnun hem de üzülmüş olacaksınız.” Ne diyeceklerini bilemeyen atlılar yollarına devam ettiler. Ertesi sabah güneş yükseldiği zaman, ellerini ceplerine sokan bu üç atlı, ceplerindeki taşların elmas, pırlanta, inci ve diğer kıymetli taşlara dönmüş olduğunu gördüler. Seviniyorlardı çünkü sesin emri üzerine taşları ceplerine koymuşlardı, üzülmüşlerdi çünkü daha fazla taş almamışlardı.

Bu metin aşağıdaki düşüncelerden hangisini vurgulamak için kullanılabilir?

- A) Faydasız olarak gördüğümüz şeyler, gün gelir faydalı hâle gelebilir.
- B) Bazen anlamsız gibi görünen birtakım işlerin gerçek yüzü daha sonradan anlaşılır.
- C) Bir insanın işine yaramayan bilgi, başka birinin hayatını değiştirebilir.
- D) Bizim 6 dediğimiz şeye karşımızdaki insan 9 diyebilir.

5.

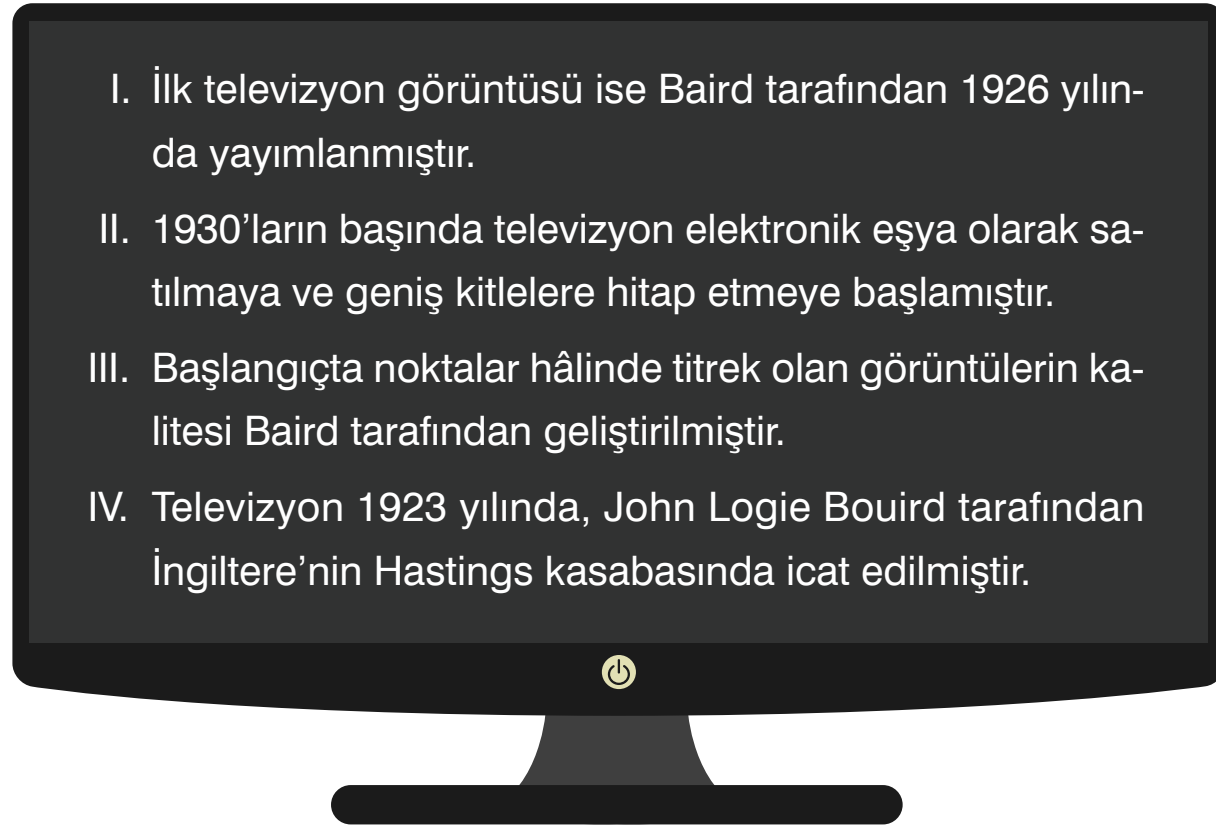


Ramazan Bayramı demek benim için harçlık demektir; çikolata, şeker demektir. Çikolatayı, şekeri elimizdeki poşetlerle komşularımızdan toplar ama yemezdik çünkü diğer arkadaşlarımıza “Bak ben senden daha çok topladım.” demenin hazzına ulaşmak isterdik. Harçlıklar da yine çikolataya ve şekere yatırılırdı. Kurban Bayramı ise Ramazan Bayramı kadar cazip gelmiyordu bizlere. Bayramdan önce alınıp bahçemize bağlanan koyunu birkaç gün sever, onunla oynar; ağaçlardan kopardığımız yapraklarla onu beslemeye çalışırdık.

Bu metin aşağıdaki sorulardan hangisine cevap olarak söylenmiştir?

- A) Çocukken Ramazan Bayramlarını niçin çok severdiniz?
- B) Hangi bayramda daha çok eğlenirdiniz?
- C) Siz de “Nerede o eski bayramlar?” diyenlerden misiniz?
- D) Ramazan Bayramlarında siz de şeker toplar mıydınız?

6.



- I. İlk televizyon görüntüsü ise Baird tarafından 1926 yılında yayımlanmıştır.
- II. 1930'ların başında televizyon elektronik eşya olarak satılmaya ve geniş kitlelere hitap etmeye başlamıştır.
- III. Başlangıçta noktalar hâlinde titrek olan görüntülerin kalitesi Baird tarafından geliştirilmiştir.
- IV. Televizyon 1923 yılında, John Logie Bouird tarafından İngiltere'nin Hastings kasabasında icat edilmiştir.

Numaralanmış cümleler aşağıdakilerin hangisinde oluş sırasına göre verilmiştir?

A) IV - I - II - III

B) III - II - I - IV

C) IV - I - III - II

D) IV - III - II - I

7.



(I) Mum, Mısır ve Girit 'te bulunmuş en az 5.000 yıllık şamdanlardan anlaşılabilir üzere, Antik Çağ'ın ilk buluşları arasındadır. (II) Orta Çağ'da ise Avrupa'da kullanılan mumlar, don yağından yapılmaktaydı. (III) 1292 yılına ait bir vergi listesine göre Paris'te 71 tane mum yapımcısı yaşamaktaydı. (IV) Stearik asitten sonra iki önemli malzeme daha bulunmuştur: ispermeçet balinasının kafa boşluğundan elde edilen ispermeçet ve petrolün bir yan ürünü olan parafindir. (V) Bu buluşlardan sonra parafin ve stearik asitle hazırlanan karışım, mumun temel malzemesi hâline gelmiştir.

"1800'lü yıllarda Fransız kimyacı Michel-Eugene Chevreul, yağdaki gliserinden yağ asidini ayırarak daha kaliteli mumların yapımında kullanılan stearik asidi üretmiştir." **cümlesi, metinde numaralanmış cümlelerin hangisinden sonra getirilirse anlam akışı sağlanmış olur?**

A) II.

B) III.

C) IV.

D) V.

8.



(I) Tarihçilerin, Hollanda'da ilk kez 1200'lü yıllarda kullanıldığını belirlediği tahta ayakkabıların ülke kültüründe önemli bir yeri var. (II) Eskiden günlük yaşamda kullanılan bu ayakkabılar, günümüzde süs eşyası olarak ev dekorasyonlarında kullanılıyor. (III) Söğüt ağacından yapılan bu ayakkabılara Hollandalılar Clog/Klumpen diyor ve onu hayatlarının ayrılmaz bir parçası olarak görüyor. (IV) Marangoz tezgâhlarında tamamen el işçiliği kullanılarak yapılan ayakkabıların kullanım sırasında su almaması için kullanılan ağaçlar, günlerce su içinde tutuluyor.

Bu metinde numaralanmış cümlelerden hangisi anlam akışını bozmuştur?

A) I.

B) II.

C) III.

D) IV.

9. Aşağıdaki seçeneklerde verilen ifadeler "giriş, gelişme, sonuç" şeklinde sıralandığında hangisi dışarıda kalır?

- A) Kavrulmuş fındık yağının tatlı tadı ve kendine özgü aroması, yağın salata soslarında kullanılmasını sağlar. Tadı; turunçgiller, ahududu, çikolata ve diğer tatlı yiyeceklerle iyi bir uyum sağlamaktadır. Ayrıca zeytinyağının yerine de kullanılabilir.
- B) İçeriğindeki zengin E vitamini alyuvarların yok olmasını önleyerek kansızlığa karşı savaşır. Damar sertleşmesini ve daralmasını azaltarak, kalp krizi geçirme riskinin de önüne geçilmesinde yardımcı olur.
- C) Fındık yağı, içerdiği zengin vitaminler ve flavanoidler isimli bileşenler ile verdiği enerjinin yanı sıra kalp hastaları, kolesterol problemi yaşayanlar, cilt sorunlarına ve kansızlığa sahip olanlar için doğal bir güçlendirici ve düzenleyicidir.
- D) Diyabetik hastalar için de önemli görevler üstlenen fındık yağı bu hastalarda insülin ihtiyacını azaltarak kan şekerinin kontrol altına alınmasına yardımcı olmaktadır.

10.



(I) El sanatları, kişinin kendi elleriyle üretimde bulunduğu hobi ve faaliyetleri kapsayan bir sanat dalıdır. (II) El sanatları, insanoğlu var olduğundan beri tabiat şartlarına bağlı olarak ortaya çıkmıştır. (III) İnsanların ihtiyaçlarını karşılamak, örtünmek ve korunmak amacı ile ilk örneklerini vermiştir. (IV) Daha sonra gelişerek çevre şartlarına göre değişimler gösteren el sanatları, ortaya çıktığı toplumun duygularını, sanatsal beğenilerini ve kültürel özelliklerini yansıtır hâle gelerek geleneksel nitelik kazanmıştır. (V) Geleneksel Türk el sanatları Anadolu'nun binlerce yıllık tarihinden gelen çeşitli uygarlıkların kültür mirasıyla, kendi öz değerlerini birleştirerek zengin bir mozaik oluşturmuştur.

Numaralanmış cümlelerden hangisi metinden çıkarılırsa anlam akışı sağlanmış olur?


A) II.

B) III.

C) IV.

D) V.

11.



Dede Korkut Kitabı, Oğuz Türklerinin bilinen en eski epik destansı hikâyeleridir. 14 veya 15. yüzyılda anonim bir yazar tarafından yazıldı. On iki destansı hikâye ve bir ön sözden oluşur. İçerdiği hikâyeler tarih boyunca dilden dile, anlatıcıdan anlatıcıya aktarılan birer sözlü gelenek ürünüdür. Hikâyeler kulaktan kulağa aktarıldığından dolayı gerçek hâlinin dışına çıkmıştır. 15. yüzyılın ikinci yarısında yazıya geçirildiği tahmin edilir. Oğuzların yaşam biçimlerinden, ekonomisine, inançlarından, giyinişlerine, beslenmelerinden içinde yaşadıkları doğaya kadar pek çok konuda bilgi sağlayan bir kaynaktır. Günümüze ulaşan üç el nüshası bulunmaktadır. Vatikan Kütüphanesindeki iki esere ek olarak İran'da yeni bir nüsha bulunduğu 2018 yılında halk edebiyatı ve destan uzmanı Metin Ekici tarafından ilan edilmiştir.

Bu metinde Dede Korkut Kitabı ile ilgili aşağıdakilerden hangisine değinilmemiştir?

- A) Ne zaman yazıldığına
B) Hangi konuları içerdiğine
C) Hangi amaçla kaleme alındığına
D) Günümüze ulaşan nüshalarının nerede bulunduğuna

12. → Birden çok varlık ya da kavramın benzer ya da farklı yönlerinin ortaya konulmasına **karşılaştırma** denir.

Aşağıdaki metinlerden hangisinde yukarıda verilen düşünceyi geliştirme yolu kullanılmamıştır?

- A) Dış gezegenler olarak adlandırılan Jüpiter, Satürn, Uranüs ve Neptün bu sıralamayla Güneş sistemimizde en dışta yer alır. Bu gezegenlerin çekirdekleri sıvı ya da katı maddeden oluşmuş olsa da büyük bölümleri hidrojen ve helyum gibi çeşitli gazlardan oluşur. Bu nedenle "gaz devleri" olarak bilinir.
- B) Kakao ağacının yaprakları ilk çıktıklarında kırmızımsı renkte olur, daha sonra yeşile döner. Bu kalın yaprakların uzunluğu 40 santimetre, genişliğiyse 20 santimetreye kadar ulaşabilir. Düzenli olarak dökülen yaprakların yerlerine yenileri çıkar. Kakao ağacının küçük çiçekleri ağacın türüne göre beyaz, pembe, sarı ya da kırmızı renklerde olabilir.
- C) Kuzey Kutup Bölgesi, insanların yaşadığı en soğuk bölge ancak Dünya'nın en soğuk yeri değil! Antarktika yani Güney Kutup Bölgesi, Arktik'ten neredeyse iki kat daha fazla soğuk. Uydular aracılığıyla 2010 yılında yapılan bir çalışmada Güney Kutup Bölgesi'ndeki hava sıcaklığı -93,2 santigrat derece ölçülmüş.
- D) Yaban hayatı biyologları doğada gözlem yaparken çeşitli malzemeler kullanır. Türler hakkında bilgi verici rehber kitaplar, taşınabilir bilgisayar, dürbün, büyüteç, teleskop, ses ve video kayıt cihazları, küresel konumlama cihazının yanında neşter, makas, cımbız, tüp, saklama kapları, mikroskop bunlardan bazılarıdır.

13.

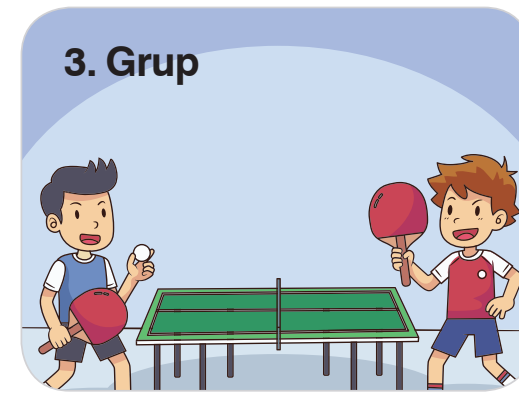


Ekolokasyon veya biyosonar yarasalar, yunus ve balina gibi bazı memelilerin kullandığı biyolojik sonardır. Ekolokasyon, hayvanın çıkarttığı sesi kullanan bir aktif sonar gibi çalışır. Uzaklık, sesin çıktığı anla yankının geri dönüşü arasında geçen zamanla saptanır. Ekolokasyon yapan hayvanların iki kulağı birbirinden hafifçe uzaktır. Bu yüzden yankı, nesnenin pozisyonuna göre iki kulağa farklı zamanlarda ve farklı şiddetlerde varır. Süre ve şiddet farkı hayvan tarafından nesnenin pozisyonunu belirlemek için kullanılır. Ekolokasyonla hayvan sadece uzaklığı değil, biçim ve büyüklüğü de saptayabilir.



Bu metnin anlatımıyla ilgili aşağıda verilenlerden hangisi söylenemez?

- A) Tanım cümlesi kullanılmıştır. B) Bir düşünceye örnekler gösterilmiştir.
C) Açıklayıcı anlatım biçimi kullanılmıştır. D) Benzetmeden yararlanılmıştır.

14. Ali, Cem, Mete, Bora, Hasan ve Erkan adlı altı arkadaş dersten sonra okulun spor salonuna gidip masa tenisi oynamaya karar verir. Bu kişiler masa tenisi oynamak için üç gruba ayrılmıştır.




Gruplarla ilgili bilinenler şunlardır:

- Her grupta iki kişi vardır.
- Ali ile Mete aynı gruptadır ve bu grup 3. değildir.
- Hasan 3. grupta değildir.
- 1. grupta olan Bora, Erkan'la aynı grupta değildir.

Buna göre aşağıdakilerden hangisi kesinlikle yanlıştır?

- A) Erkan ile Hasan aynı gruptadır. B) 2. grupta Ali ile Mete vardır.
C) Cem ile Bora aynı grupta değildir. D) Erkan 3. gruptadır.

15.



Bu görsellerde eleştirilen durum aşağıdakilerden hangisidir?

- A) İnsanların umursamazlığı
 B) İletişim kopukluğu
 C) İnsanları yalnızlığa iten sebepler
 D) Teknoloji bağımlılığı





CEVAP ANAHTARI

10. Gün: 1. B 2. D 3. D 4. B 5. A 6. C 7. B 8. D
9. A 10. D 11. C 12. D 13. B 14. A 15. D

Mesut
BAYAR

Duygu
AKKAYA SALMAN

