

5. Sınıf

PARAGRAF

DENEMESİ



Mesut
BAYAR

 bizturkceogretmeniyiz

Duygu
AKKAYA SALMAN

 duyguluturkce





PARAGRAF

Bu fasiküldeki **40** dakikada
15 soruyu **çözü**nüz.

1. Aynı sırayı paylaşan Ayfer ve Kağan bir gün öğretmenin tahtaya yazdığı soruya cevap vermek için parmak kaldırır. Öğretmen, ikisinin de aynı anda parmak kaldırdığını görür ama söz hakkını ilk olarak Ayfer'e verir. Kağan, bu duruma içerlemiştir. Öğretmen bu durumu fark eder. Öğretmen ile Kağan arasındaki diyalog şu şekildedir:

Öğretmen: Kağan, neden keyfin kaçtı? Seni rahatsız eden bir durum mu var?

Kağan: Öğretmenim, ilk söz hakkını bana vermediğiniz için size kırlıldım.

Öğretmen: Kağancığım, insan bu küçük şey için öğretmenine kırılır mı?

Kağan: Ama öğretmenim bu soruya ben cevap vermek istiyordum, cevaptan da o kadar emindim ki!

Öğretmen: Tamam söz olsun, bundan sonraki ilk soruda söz hakkını sana vereceğim

Kağan: Ama bilmediğim bir soruysa ne olacak, o zaman daha kötü olurum.

Yukarıdaki karşılıklı konuşmadan aşağıdakilerden hangisi çıkarılamaz?

- A) Kağan, tavrından dolayı öğretmenine gücenmiştir.
B) Öğretmen, çok çalışkan olduğu için ilk söz hakkını Ayfer'e vermiştir.
C) Öğretmen, bir sonraki soruda ilk söz hakkını Kağan'a vereceğini söylemiştir.
D) Sıra arkadaşı olan Ayfer ve Kağan, öğretmenin sorusuna birlikte el kaldırmıştır.
2. Birine güzel görünen bir durum veya olay başka birine çirkin görünebilir. Bu durumları veya olayları bize güzel ya da çirkin gösteren şey, tamamen bizim duygularımızdır. Bir anneye çok tatlı ve şirin gelen bir çocuk, başka birine sıradan gelebilir. Anne için o çocuk belki de dünyanın en güzel çocuğudur ama bir başkası için o çocuğun diğer çocuklardan farkı yoktur.

Aşağıdaki sözlerden hangisi bu metindeki düşünceyi destekler?

- A) Göz görmeyince gönül katlanır.
B) İnsan yedisinde ne ise yetmişinde de odur.
C) Bal bal demekle ağız tatlanmaz.
D) Kirpi, yavrusunu pamuğum diye sever.

3.



(Kaynak: Doğru Veri)

Yukarıdaki görselde 1987-2022 yılları arasında İstanbul'da kaydedilen en yüksek kar kalınlığı ile ilgili bilgilere yer verilmiştir.

Bu görseldeki bilgilerden aşağıdakilerden hangisine ulaşamaz?

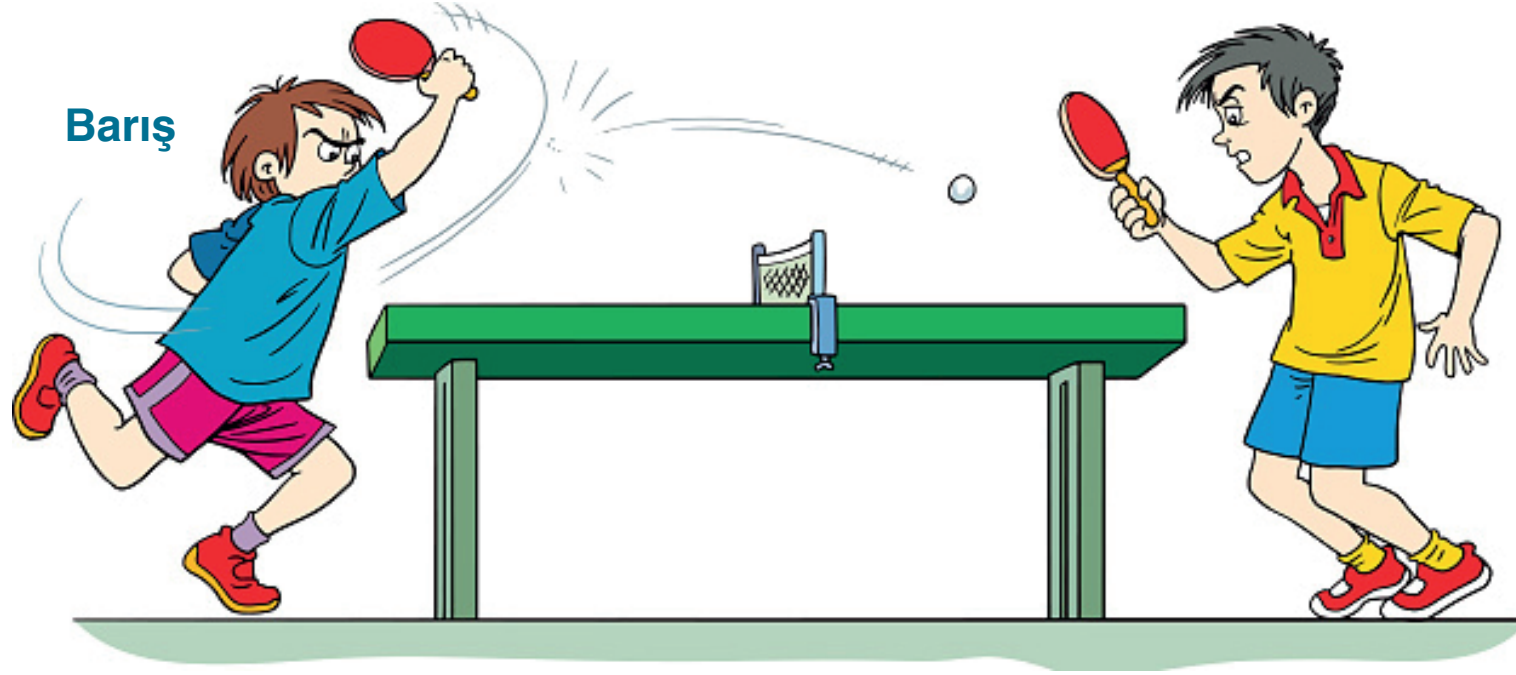
- A) En yüksek kar kalınlığı 122 cm ile 2017 yılına aittir.
- B) 2001 yılındaki kar kalınlığı 1987 yılındaki kar kalınlığının yarısı kadardır.
- C) 2012-2022 yılları arasında kar kalınlığı sürekli artmıştır.
- D) 2012 ve 2013 yıllarındaki kar kalınlığı aynıdır.

4. I. Anne, umutla kendisine bakan oğlunun elinden kâğıdı aldı ve kâğıdın arka yüzüne şunları yazdı:
- II. Çimleri biçtiğim için 5 TL, odamı temizlediğim için 1 TL, çöpü attığım için 1 TL, iyi bir karne getirdiğim için 5 TL, bahçeyi temizlediğim için 2 TL istiyorum.
- III. Küçük çocuk, annesine geldi ve ona kâğıdı uzattı. Annesi ellerini önlüğüne kuruladıktan sonra kâğıdı okumaya başladı:
- IV. Hasta olduğunda başında bekledim, elimden geleni yaptım ama bedava. Yıllar boyu değişik nedenlerle senin için gözyaşı döktüm bedava. Senin için geceler kaygı duyup uykusuz kaldım bedava. Oyuncaklarını topladım, yemeğini hazırladım, giysilerini yıkadım, ütüledim bedava.
- V. Çocuk, annenin yazdıklarını okuyunca gözleri doldu. Annesine baktı, "Anneciğim seni seviyorum." dedi ve kalemi alarak kâğıda "Hepsi ödenmiştir." yazdı.

Bu metindeki anlam akışını sağlamak için hangi cümleler yer değiştirmelidir?

- A) I ve III
- B) II ve III
- C) II ve IV
- D) IV ve V

5.



Barış, beş yıldır masa tenisi turnuvalarına katılıyordu. Fakat hiçbir turnuvada birinci olamamıştı. Bu sporu çok iyi oynamasına rağmen yine de birincilik kürsüsüne çıkamamıştı. Bir gün antrenörü ona şöyle dedi:

— Barış, azmini ve gayretini kaybetmezsen bu sporda çok iyi noktalara gelebilirsin. Yeter ki çalışmaya devam et ve rakiplerini gözünde büyütme.

Barış, antrenörünün öğütlerini dikkate aldı. Hiçbir zaman ümitsizliğe kapılmadı. Daha çok çalıştı ve gayret etti. Bir sonraki turnuvada da rakiplerini geride bırakıp şampiyon oldu.

Bu metne göre Barış'ı şampiyonluğa götüren asıl durum aşağıdakilerden hangisidir?

- A) Antrenörün Barış'ı motive etmesi
- B) Barış'ın azmini ve gayretini kaybetmeyip çok çalışması
- C) Barış'ın rakiplerini küçümsememesi
- D) Barış'ın karşısına son maçta zayıf bir rakibin çıkması

6.

Dostluk iki kişi arasındaki en güçlü bağlardan biridir. Bu bağ sayesinde insanlar zor günlerinde birbirlerine destek olurlar. Dostlukta karşılıklı sevgi vardır. Dostluk belli bir çikara dayanmaz. Dostluk kolay şekilde elde edilmez ve hayatımıza yerleşmez. Hayatımıza pek çok insan girer ama bunlardan sadece bir ya da birkaçı dostumuz olur. Dostluğu elde etmek için güven gerekir. Güveni sevgi destekler. Bu tür duyguların bir araya gelmesi ise zaman alır. Kısacası dostluk öyle her yerde olan ve çabuk bulunan bir kavram değildir.




Bu metinde aşağıdakilerden hangisinin üstünde durulmuştur?

- A) Dostluk kurmanın zorluğundan
- B) Dostluğun güvene dayandığından
- C) Dostluğun temelinde sevgi olduğundan
- D) Dostluğun fedakârlık gerektirdiğinden


11. Çizge, uçlar ve bu uçları birbirine bağlayan kenarlardan oluşan bir tür ağ yapısıdır. Başka bir ifadeyle bir olayın çeşitli durumlarını göstermeye veya birkaç şey arasında karşılaştırma yapmaya yarayan çizgilerden oluşmuş biçimdir.

Bu bilgiye göre aşağıdakilerden hangisi “çizge”ye örnek gösterilebilir?


A)



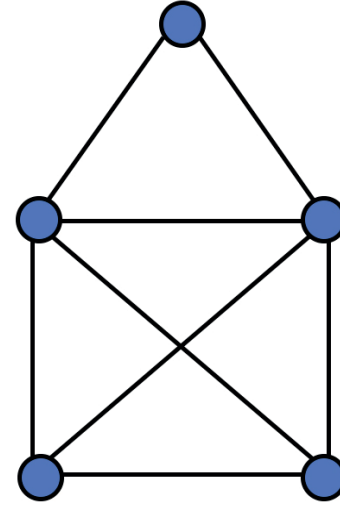
B)



C)



D)



12. (I) Gaziantep, Güneydoğu Anadolu Bölgesi'nin Paris'i olarak bilinir. (II) Gaziantep'e bu unvanı veren özelliği, bölgenin en gelişmiş sanayi ve kültür şehri olmasıdır. (III) Gaziantep, özellikle baklavasıyla ve pek çok yemeğiyle ünlü bir şehrimizdir. (IV) Gelişmişlik düzeyi yüksek olan bu şehir, bazı konularda Paris ile karşılaştırılmaktadır.

Bu metinde anlam akışını bozan cümle aşağıdakilerden hangisidir?

A) I

B) II

C) III

D) IV

13. Aşağıdaki açıklamalar bir okulun “Okul Kuralları” kılavuzundan alınmıştır.

DUYARLIYIZ

Empati (duygudaşlık) kurar, şefkat ve saygı gösteririz. Hizmet etme yükümlülüğüne inanır, diğerlerinin hayatında ve kendi çevremizde dünyada olumlu bir fark yaratmak için hareket ederiz.

RİSKİ GÖZE ALIRIZ

Belirsizliğe dikkatli ve kararlılıkla yaklaşırız, yeni fikirler ve yenilikçi yollar araştırmak için bağımsız ve ortaklaşa çalışırız. Zorluklar ve değişim karşısında becerikli ve dayanıklıyız.

AÇIK GÖRÜŞLÜYÜZ

Dünyayı, kendi fikir ve deneyimlerimizi derinlemesine düşünürüz. Öğrenme ve kişisel gelişimimizi desteklemek amacıyla güçlü ve güçsüz yanlarımızı anlamak için çaba harcarız.

DÖNÜŞÜMLÜ DÜŞÜNÜRÜZ

Diğerlerinin değerleri ve geleneklerinin yanı sıra kendi kültürlerimiz ve bireysel geçmişlerimize de değer veririz. Farklı bakış açıları arar, değerlendirir ve bu deneyimlerimizle olgunlaşırız.

Buna göre okul yöneticileri aşağıdakilerden hangisini yaparsa okul kurallarına uymamış olur?

- A) Zarara uğrarım düşüncesiyle planları ve programları iptal etmek
- B) Kültürüne değer vermek, deneyimlerini geliştirmek
- C) Kendi düşünceleri doğrultusunda dünyayı anlamaya çalışmak
- D) Yeni fikirleri keşfetmek için birtakım incelemeler ve araştırmalar yapmak

14. Aşağıdaki parçalardan bir metin oluşturulmak istense bu parçalardan hangisi dışta kalır?

- A) Babamın da yardımıyla kuyudan suyu çektim ve kovadaki suyun bir kısmını çaydanlığa döktüm. Yarım saat içinde çayımız hazırıldı. Annem de bu ara güzel bir kahvaltı hazırladı. Sofraya ailecek oturduk ve afiyetle yedik.
- B) Sabah olmuştu. Çadırlarımızdan çıktık. İlk işimiz çay demlemektir. Fakat kovamızda hiç su kalmamıştı. On metre ilerideki kuyuya kadar gittim.
- C) Kampta ilk günümüzdü. Mantar aramak için dağa doğru yürüdük. Bu sırada kardeşim, çam ağaçlarının altında kırımızıtarak rengi olan mantarlar gördü.
- D) Kuyudan su çekmek için babamdan yardım istedim çünkü kocaman kovayı kuyuya sarkıtıram ve içi dolu bir şekilde yukarı çekmem mümkün değildi.

15.



Yukarıdaki görselde bir öğrencinin yapması gereken örnek davranışlara yer verilmiştir.

Bu görseldeki bilgilerden,

- I. Arkadaşlarıyla zaman geçirir, onlara gereken değeri verir.
- II. Daha verimli çalışmalarını adına arkadaşlarına öğrenme ortamı sağlar.
- III. İnsanların öğrenmek ve bilgi edinmek için soru sormalarına imkân verir.
- IV. Çevresindeki insanlara seçme imkânı sunar.

yargılarından hangileri çıkarılamaz?

A) Yalnız I

B) Yalnız IV

C) I ve II

D) III ve IV



doğru

yanlış



dakikada

bitirdim



CEVAP ANAHTARI

10. Gün: 1. B 2. D 3. C 4. A 5. B 6. A 7. D 8. C

9. B 10. B 11. D 12. C 13. A 14. C 15. A

Mesut
BAYAR

Duygu
AKKAYA SALMAN

